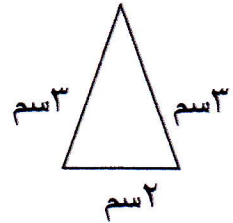
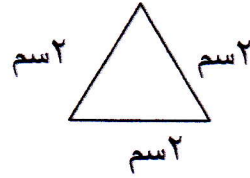
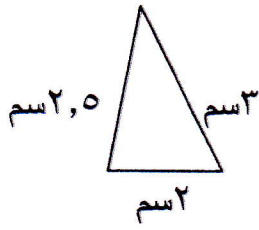


السؤال الثالث:

أولاً: (أ) أذكر نوع المثلث من حيث الأضلاع :

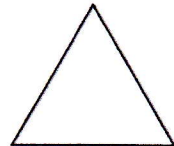
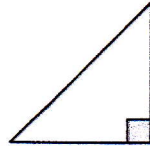



.....

.....

.....

(ب) أذكر نوع المثلث من حيث الزوايا :




.....

.....

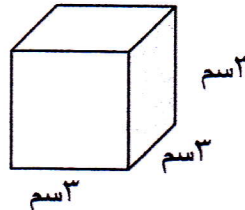
.....

الشكل يمثل مستطيل



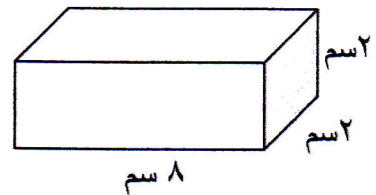
..... = المحيط

..... = المساحة






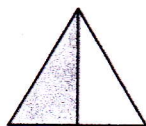
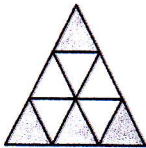
..... = الحجم

ثانياً: أكمل :



..... = الحجم

ثالثاً : أكتب ما يمثله الجزء المظلل :



.....

.....

.....

.....

.....

خامساً: أكتب على شكل كسر مركب :

$$= 2 \frac{1}{5}$$

$$= 1 \frac{3}{4}$$

$$= 7 \frac{1}{2}$$

$$= 5 \frac{1}{7}$$

رابعاً: أكتب على شكل عدد كلي أو عدد كسري :

$$= \frac{9}{5}$$

$$= \frac{7}{2}$$

$$= \frac{17}{3}$$

$$= \frac{12}{3}$$